




Pozdravljeni, šestošolci!

Prejšnji teden smo spoznavali značilnosti podnebij v VROČEM ALI TROPSKEM PASU. Ugotovili smo, da je območjem skupno to, da so celo leto zelo visoke temperature, količina padavin pa je zelo različna! Ob ekvatorju jih je največ, proti povratnikoma pa se količina padavin zmanjšuje!

Ponovi:

			
Tip podnebja			
Rastlinstvo			

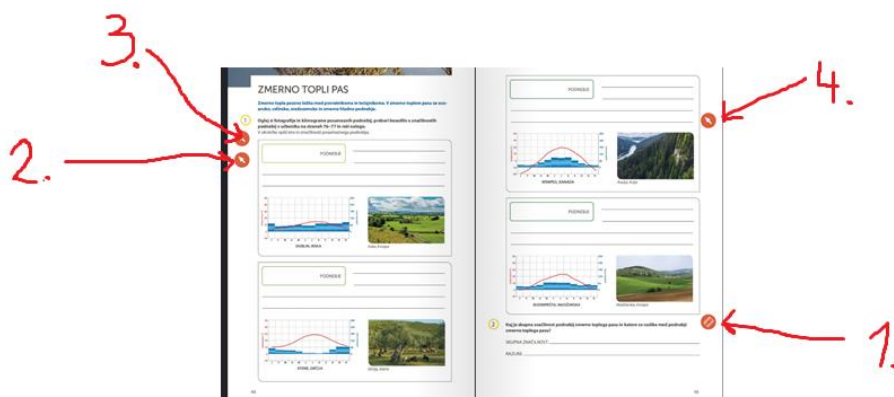
Tako, danes nadaljujemo z območjem med povratnikom in tečajnikom. V zvezek zapiši naslov:

ZMerno TOPLI PAS

Tvoj učbenik odpri na str. 50, 51 in besedilo najprej preberi. Nato:

Klikni na povezavo TUKAJ. Videl boš spodnji dve strani.

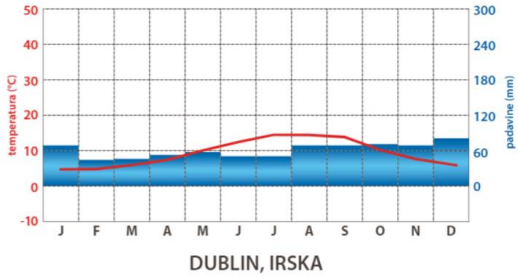
Najprej si oglej filmček, ki si ga ogledaš tako, da klikneš znakec, ki je na skici označen s številko 1.



Si si zapomnil, kateri dejavniki vplivajo na podnebje? Znaš naštetih vsaj 3 in razložiti njihov vpliv?

V zmerno topli pasu srečamo 4 različne tipe podnebja. Poglej v UČ katere in **njihove značilnosti zapiši v zvezek**. Pomagaj si s klimogrami in slikami, ki sledijo!

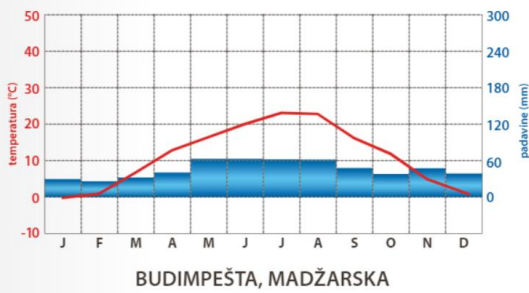
PODNEBJE



Irska, Evropa

Pomoč:
**OCEANSKO
PODNEBJE**


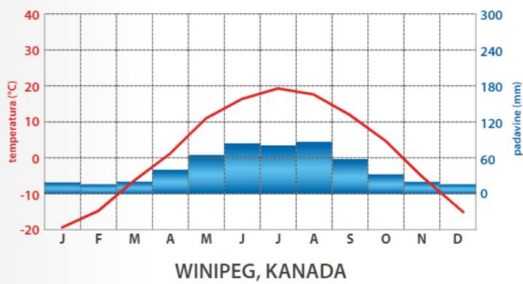
PODNEBJE



Madžarska, Evropa

Pomoč:
**CELINSKO
PODNEBJE**

PODNEBJE

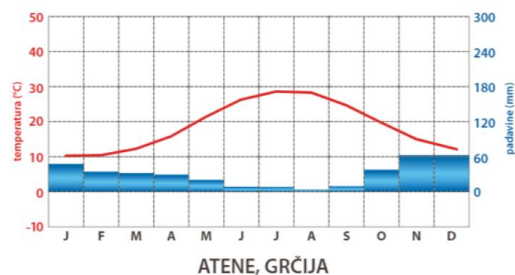


Rusija, Azija

Pomoč:
**ZMerno HLADNO
PODNEBJE**

PODNEBJE

Pomoč:
**SREDOZEMSKO
PODNEBJE**



Grčija, Atene

TAKO!

Spoznal si:

- OCEANSKO
- CELINSKO
- ZMERNO HLADNO in
- SREDOZEMSKO PODNEBJE (UČ, str.49)

Sedaj pa preveri svojo uspešnost z nalogami, ki so na skici na prvi strani tega navodila označena s številkami 1., 2., 3!

Za konec zapiši:

Kaj je skupna značilnost podnebj zmerno toplega pasu in katere so razlike med podnebj zmerno toplega pasu?

SKUPNA ZNAČILNOST: _____

RAZLIKE: _____

Nalogo, označeno s številko 3 delaj tolikokrat, da bodo rešitve vse pravilne!

V zmerno toplem pasu leži tudi Slovenija! Katere tipe podnebj ste v 5. razredu omenjali v Sloveniji? Se še spomniš?

Pomoč najdeš v UČ, str. 51!

Andreja Svetičič