

4. teden GEOGRAFIJA 8.A - ponedeljek

Po našem skupnem videnju v petek, smo z novim, že četrtem tednom pouka »na daljavo« ponovno skupaj.

V petek smo ponovili Avstralijo, danes pa boš lahko preveril, kako učinkovito je bilo tvoje delo na daljavo.

**Pripravila sem spletno nalogo, ki jo boš rešil do torka, 7. 4. 2020.**

Predlagam ti, da pred reševanjem še enkrat ponoviš Avstralijo (za pomoč imaš zapisana vprašanja iz prejšnjega tedna). Ko boš prepričan vase, pa zvezek pospravi in klikni spodnjo povezavo:

<https://app.classkick.com/#/login/WBEZFF>

**Vpišeš le svoje IME in rešiš naloge, ki te čakajo. Ko končaš, vidiš, kako si bil uspešen, hkrati pa tvoj uspeh vidim tudi jaz!**

**ZATO POGUMNO IN ZELOOO RESNO!**



#### 4. teden dela na daljavo (torkova in petkova ura)

Pozdravljeni!

Po tem, ko ste rešili spletno nalogo (lahko jo še danes, do 12.00), vas vabim že na naše naslednje potovanje....

Vabim vas v:

- Deželo, dolgega belega oblaka
- Deželo, kjer so prvotni prebivalci Maori
- Deželo, kjer so snemali film Gospodar prstanov
- Svet, ki ga zaznamujejo nasprotja
- Svet, ki je geološko zelo nemiren
- Deželo, ki je po eni strani zelo podobna Sloveniji.

No, ste že ugotovili, kam vas vabim?

Prav imate..... najprej preberite besedilo v UČ, str. 42 – 44

#### **NOVA ZELANDIJA (naslov in zapis v zvezek)**

- Leži približno 1600 km JV od Avstralije
- (poišči jo na karti)
- Sestavljata jo dva otoka (Severni in Južni)
- Loči ju Cookova ožina

SEVERNI OTOK	JUŽNI OTOK
<ul style="list-style-type: none"><li>• VULKANSKEGA NAŠTANKA</li><li>• NIŽJI</li><li>• GOSTEJE POSELJEN</li><li>• VULKANI, GEJZIRJI, VRELCI</li><li>• TOPLE VODE IN VROČI BLATNI IZVIRI</li><li>• OCEANSKO PODNEBJE</li></ul>	<ul style="list-style-type: none"><li>• VECJI</li><li>• MANJ POSELJEN</li><li>• POVRŠJE SEŠTAVLJAJO JUŽNE ALPE</li><li>• MOUNT COOK (3764 m)</li><li>• LEDENIKI</li><li>• FJORDI NA JZ</li><li>• HLADNEJŠE PODNEBJE</li></ul>

**\*FJORDI?**

**\*GEJZIRJI?**

**Se še spomniš teh pojavov? Bi jih še znal razložiti? Kdaj smo jih spoznali in kje?**

Kaj meniš, zakaj je notranjost Avstralije veliko bolj sušna kot notranjost Nove Zelandije?





Na zgornjih fotografijah so posnetki s Severnega otoka, na spodnjih pa Južnega. Vidiš razlike?  
Lahko na podlagi fotografij sklepaš o poselitvi tega območja?









Preberi besedilo v UČ, str. 44 in odgovori na vprašanja. Vprašanj ni potrebno prepisovat!

Pomagaš si lahko tudi z besedilom v eučbeniku (<https://eucbeniki.sio.si/geo8/2577/index3.html>)

- Kdo je živel na Novi Zelandiji pred prihodom Evropejcev?
- Kakšno usodo so doživeli ti staroselci po začetku naseljevanja Evropejcev?
- Kolikšen je delež Maorov danes in kakšen je njihov položaj v družbi?
- Koliko prebivalcev živi danes na Novi Zelandiji?
- Opiši poselitev in razloge zanjo. Kolikšna je gostota poselitve? Izračunaj!
- Katero je največje mesto v Novi Zelandiji in na katerem otoku leži?
- Katero je glavno mesto in kje leži?
- Nova Zelandija je gospodarsko zelo razvita. kateri dejavniki so vplivali na to?
- Naštej najpomembnejše gospodarske dejavnosti.
- Razvoj katere industrije so omogočile domače surovine in energijski viri?
- Pomembna dejavnost je turizem. Naštej kaj je tisto, kar turiste privablja v to deželo.

Pobrskej za pojmi v spodnji tabeli in jih s svojimi besedami opiši v zvezek.

	
MAORSKI POZDRAV	MAORSKI BOJNI PLES »HAKA« Oglej si: <a href="https://www.youtube.com/watch?v=BI851yJUQQw">https://www.youtube.com/watch?v=BI851yJUQQw</a> <a href="https://www.youtube.com/watch?v=yiKFYTFJ_kw">https://www.youtube.com/watch?v=yiKFYTFJ_kw</a>
	
kivi	kivi