

7.b razred – GEOGRAFIJA NA DALJAVO 2.TEDEN

Spoštovani učenci!

Verjamem, da ste naredili kar smo se dogovorili; zapisali v zvezke in preverili svoje ugotovitve z rešitvami, ki sem jih podala.

Predlagam, da za začetek odprete str.164 v Atlasu in ponovite:

- Lego Azije (glede na poloble in toplotne pasove)
- Morja in oceane, ki jo oblivajo (mislim, da to s pomočjo atlasa, ni tako težko!)

Kaj bomo pa počeli danes? Še vedno bomo pri odprtem atlasu (str.91), pa tudi [učbenik \(str. 72,73\)](#) naj bo na tvoji mizi. Spoznali bomo polotoke in otoke ter površje v Aziji.

.....v zvezku nadaljuješ, kjer si ostal IN ZAPIŠEŠ (ko ime zapišeš, pokaži na karti v UČ!)

| polotoki | Otoki, otočja |
|--|---|
| <ul style="list-style-type: none">- Kamčatka- Korejski polotok- Indokitajski polotok- Malajski polotok (nadaljevanje Indikitajskega)- Indijski polotok- Arabski polotok | <ul style="list-style-type: none">- Japonsko otočje- Filipinsko otočje- Borneo- Sumatra- Java- Celebes- Šrilanka- Nova Gvineja |

Kaj pomeni toliko otokov in polotokov? O kakšni obali govorimo?

Svetujem ti, da zgornje polotoke in otoke najprej poiščeš v učbeniku, potem pa še v atlasu. Verjamem, da jih boš našel. ☺

Sedaj pa v učbeniku stran obrni naprej in preberi besedilo na straneh 74 in 75.

Zapis, v zvezek, ki sledi je: **POVRŠJE AZIJE**

Površje v Aziji je zelo raznoliko. Sestavljajo ga:

- a) MLADA GORSTVA
- b) VIŠAVJA
- c) NIŽINE OZ. NIŽAVJA
- d) ŠTEVILNE REKE

S pomočjo besedila v učbeniku IZPIŠI primere za vsako obliko površja (zapisani so z debelim tiskom). Npr: Himalaja, Iransko višavje, Mezopotamija, Jenisej

Potem jih najprej poišči na karti v učbeniku, kasneje pa še v atlasu. Večkrat, ko boš ponovil, lažje jih boš našel.

Za utrjevanje lahko narediš vajo na:

<https://interaktivne-vaje.si/> (izberi geografija – Azija – Reliefne enote - 2. vaja) ali pa mi piši na:


andreja.sveticic@sola.velike-lasce.si

Ostani dobre volje, LP, Andreja Svetičič

7.b GEO – PETEK, 2. TEDEN

Pozdravljeni učenci! Pa smo zopet skupaj. Drugi teden učenja na daljavo se že bliža koncu, zato upam, da ste uspeli narediti naloge za nazaj.

Našo uro bomo pričeli s ponovitvijo. Vzemi v roke zvezek in poglej zadnji zapis, ko si moral zapisati oblike površja. Sedaj lahko svoj zapis preveriš s spodnjo tabelo.

| MLADA GORSTVA | VIŠAVJA | NIŽINE OZ. NIŽAVJA | REKE |
|--|---|---|--|
| Himalaja Karakorum Hindukuš  | Tibetansko Anatolsko Iransko Dekanska planota (sredi Indijskega polotoka) Srednesibirsko višavje (ga že poznaš) | Mezopotamija Severnoindijsko nižavje Kitajsko nižavje Mandžurija Turansko nižavje Zahodnosibirsko nižavje (ga že poznaš) | Huang He (Rumena reka) Jangce Mekong Ganga ali Ganges Ind Ob Jenisej Lena |

Te naravne enote poišči najprej v UČ, str. 74 in 75; potem pa še v atlasu, str. 91.

* Nižavja so nastala večinoma ob rekah. To so hkrati najgosteje poseljena območja. Reke pa uporabljajo tudi za promet in pridobivanje električne energije.

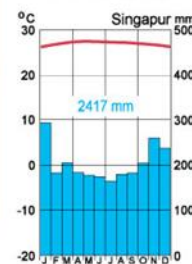
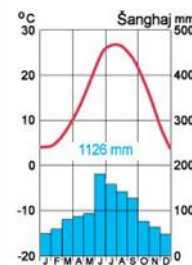
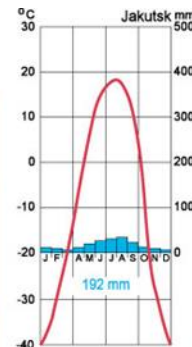
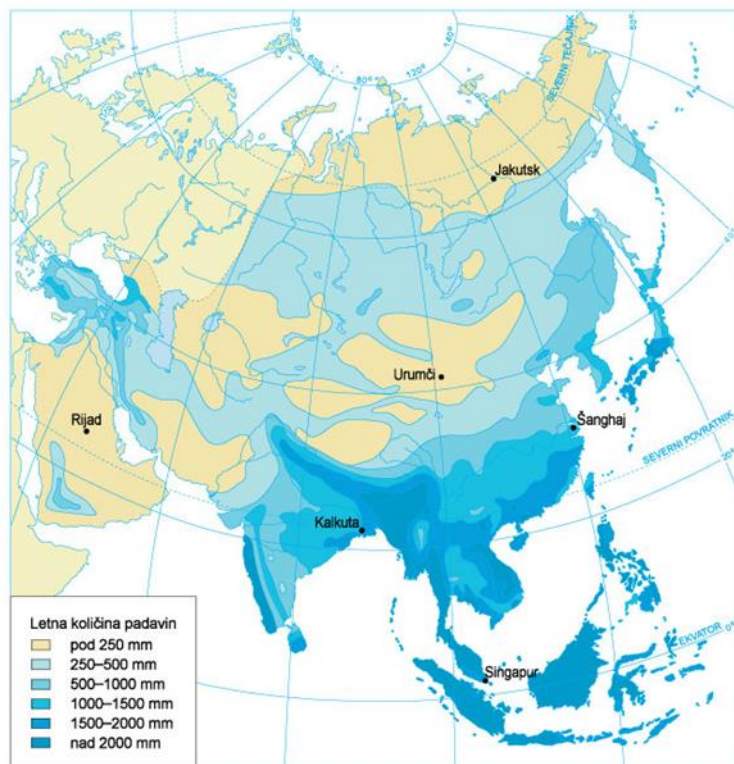
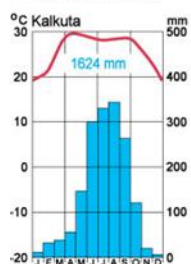
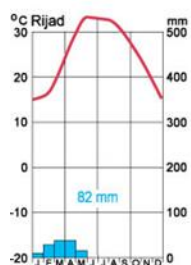
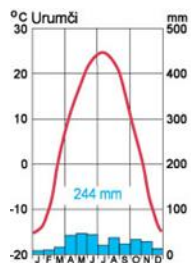
Značilnosti površja, nam lahko že veliko povedo. S pomočjo znanja o površju lahko sklepamo o poselitvi ter tudi razporeditvi padavin. To pa nas čaka v prihodnjih urah.

Danes bomo naredili uvod v **PODNEBJE IN RASTLINSTVO AZIJE** (to je nov naslov!)

Se še spomniš kateri dejavniki najpogosteje vplivajo na podnebje?

- DEJAVNIKI, KI VPLIVAJO NA PODNEBJE (površje; geografska širina = oddaljenost od ekvatorja; oddaljenost od morja; morski tokovi,...) Bi še znal razložiti njihov vpliv?
- RAZPOREDITEV PADAVIN (analiziraj spodnjo karto in v zvezek zapiši OBMOČJA (vsaj 3), ki prejmejo največ in tista (vsaj 3) z najmanj padavinami

- Največ padavin dobijo: _____
- Najmanj padavin dobijo: _____



Ob karti imaš zapisana območja.

Ustrezno jih razvrsti med območja z največ padavinami ter najbolj suha območja in jih razvrsti v zvezku na ustrezno črto.

- A – zahodni del Indijskega polotoka
- B – severni del celine
- C – Arabski polotok
- D – Indonezijsko otočje (ob ekvatorju)
- E – vznožje Himalaje
- F – osrednji del celine (kjer je kraj Urumči)
- G – vzhodno od Kaspijskega jezera
- I – Indokitajski polotok

Pomoč, da ugotoviš, če si razporedil prav:

Največ padavin dobijo območja, označena s črkami: A, D, E, I; ostalo gre na drugo črto, z najmanj padavinami! 😊

DOMAČA NALOGA!

Na podnebje in razporeditev padavin v Aziji zelo vplivajo **MONSUNI**. Pobrskaj o njih na spletu, ter kratko razlago (v največ 5ih povedih) zapiši v zvezek. Besedilo lahko opremiš tudi s preprostima skicama.

! Narejeno nalogo v zvezku lahko slikaš (NI OBVEZNO!) in mi sliko pošlješ na andreja.sveticic@sola.velike-lasce.si

Vesela bom tudi povratne informacije našega dela na daljavo. Pri delu lahko uporabljaš spletni portal <https://www.irokus.si/> (navodila za uporabo si dobil že prejšnji teden, je kar uporabno!)